

ПОРТФОЛИО

Учени ка

МБОУ „Октябрьская СОШ

им. Н.В. Архангельского”

Фамилия Белых

Имя Егора

Отчество Борисовича

Что я люблю больше всего

Мое любимое время года лето

Мой любимый праздник День рождения

Мой любимый цвет зеленый

Моя любимая одежда штансы

Мое любимое блюдо макаронны

Мое любимое животное лев

Мое любимое занятие (хобби) ленка из

пластилина

Моя любимая книга "Каникулы в Тюстоквашино"

Мой любимый автор Эдуард Успенский

Мой любимый мультфильм "Маракашар"

Мой любимый фильм "Тарни Поттер"

Моя любимая телепередача "Ералаш"

Моя любимая музыка детская

Моя любимая песенка "3-е сентября"

Моя любимая игра шахматы, домино


Мой любимый вид спорта футбол

Мой любимый школьный предмет математика

Кем я хочу стать археологом

Моя мечта путешествие в Арктику





Копилка ★ достижений ★

(благодарственные
письма,
сертификаты,
дипломы,
грамоты)



ДИПЛОМ

о присвоении звания
первоклассника

ВЫДАН

Белох Егору
Борисовичу

ученику

1 класса А школы № МБОУ

«Октябрьская СОШ им. Н. В. Ангарельского»

В честь большого радостного праздника
Документ торжественно вручается –
И его владелец называется
Самым настоящим первоклассником!



Администрация МБОУ «Октябрьская СОШ им. Н.В. Архангельского»



ДИПЛОМ

НАГРАЖДАЕТСЯ

Белых Егор

1А класс

за 3 место

в школьном конкурсе поделок

«Дары осени – 2022»

номинация

«Зверята»

Директор МБОУ
«Октябрьская СОШ
им. Н.В. Архангельского»



Есина М.А.

пгт. Октябрьское 2022 г.

Администрация МБОУ «Октябрьская СОШ им. Н.В. Архангельского»



ДИПЛОМ

НАГРАЖДАЕТСЯ

Белых Егор

1А класс

за 1 место

в школьном конкурсе поделок

«Дары осени – 2022»

номинация

«Аппликация»

Директор МБОУ
«Октябрьская СОШ
им. Н.В. Архангельского»



Есина М.А.

пгт. Октябрьское 2022 г.



Грамота

вручается ученику 1 «А» класса
МБОУ «Октябрьская средняя общеобразовательная школа
имени Героя Советского Союза Н.В. Архангельского»

Белых Егору

занявшего I - место

в конкурсе среди детей школьного возраста
по пожарной тематике, пропагандирующий культуру
безопасности жизнедеятельности
в номинации «Лучшая семейная работа»

Директор филиала КУ ХМАО-Югры
«Центроспас - Югория»
по Октябрьскому району



А.Д. Горчинский

2022 год



УПРАВЛЕНИЕ ОБРАЗОВАНИЯ И МОЛОДЕЖНОЙ ПОЛИТИКИ
АДМИНИСТРАЦИИ ОКТЯБРЬСКОГО РАЙОНА

ДИПЛОМ



ВРУЧАЕТСЯ

**Белых Егору
пгт. Октябрьское,
занявшим III место**

**в районном конкурсе рисунков
«Рождественские чудеса»
(Семейные и коллективные работы)
номинация «Праздничная Рождественская открытка »**

**Руководитель - *Чуреева Татьяна
Васильевна***

**И.о. заместителя начальника Управления
образования и молодежной политики
администрации Октябрьского района**



В.В. Дрякалов

пгт. Октябрьское, 2023 г.

АБ

Всероссийская онлайн-олимпиада Учи.ру по русскому языку
для учеников 1–9 классов
Февраль 2023

ПОХВАЛЬНАЯ ГРАМОТА

Награждается

Егор Белых

ученик 1-го класса

Муниципальное казенное общеобразовательное учреждение
«Октябрьская средняя общеобразовательная школа имени Героя
Советского Союза Николая Васильевича Архангельского»



Грамота № 1-37139743

Лицензия на осуществление образовательной
деятельности №038749 от «20» сентября 2017 г.

Руководитель направления «Олимпиады»
платформы «Учи.ру»



UCHI.RU

A handwritten signature in black ink, appearing to read "Островская".

Д. В. Островская



ДИПЛОМ

участника
конкурса творческих работ
«Полицейский Дядя Стёпа»

награждается

Белых Егор

7 лет

Председатель
Общественного совета при
УМВД России по ХМАО-
Югре



Г. В. Ковалева



2023
Ханты-Мансийск



**XII ОТКРЫТЫЙ РАЙОННЫЙ
КОНКУРС-ФЕСТИВАЛЬ
«ПАСХАЛЬНАЯ ВЕСНА-2023»**



ДИПЛОМ III СТЕПЕНИ

**В НОМИНАЦИИ
«ПАСХАЛЬНАЯ НАСТОЛЬНАЯ КОМПОЗИЦИЯ»**

ВОЗРАСТНАЯ КАТЕГОРИЯ 5-7 ЛЕТ

ЕГОР БЕЛЫХ

Г.П. ОКТЯБРЬСКОЕ

ПРОТОИЕРЕЙ



В.В. ШИШКИН

**ПГТ. ОКТЯБРЬСКОЕ
2023Г.**



ХІІ ОТКРЫТЫЙ РАЙОННЫЙ
КОНКУРС-ФЕСТИВАЛЬ
«ПАСХАЛЬНАЯ ВЕСНА-2023»



ДИПЛОМ УЧАСТНИКА

В ХІІ ОТКРЫТОМ РАЙОННОМ
КОНКУРСЕ-ФЕСТИВАЛЕ
«ПАСХАЛЬНАЯ ВЕСНА-2023»

**ЕГОР
БЕЛЫХ**

МБОУ «ОКТЯБРЬСКАЯ СОШ ИМ. Н.В.АРХАНГЕЛЬСКОГО»
Г.П. ОКТЯБРЬСКОЕ

ПРОТОИЕРЕЙ



В.В. ШИШКИН

ПГТ. ОКТЯБРЬСКОЕ
2023Г.



ХІІ ОТКРЫТЫЙ РАЙОННЫЙ
КОНКУРС-ФЕСТИВАЛЬ
«ПАСХАЛЬНАЯ ВЕСНА-2023»



ДИПЛОМ I СТЕПЕНИ

В НОМИНАЦИИ
«ПАСХАЛЬНАЯ НАСТОЛЬНАЯ КОМПОЗИЦИЯ»

ВОЗРАСТНАЯ КАТЕГОРИЯ 5-7 ЛЕТ

ЕГОР БЕЛЫХ

Г.П.. ОКТЯБРЬСКОЕ

ПРОТОИЕРЕИ



В.В. ШИШКИН

ПГТ. ОКТЯБРЬСКОЕ
2023Г.

ГРАМОТА

награждается

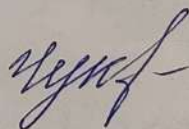
ученик 1 а класса

Белых Егор

за участие в выставке рисунков

«Крымская весна».

Классный руководитель:



Чукреева Т. В.



Моя учёба



А В С

Русский язык



Егор

Тест по русскому языку

№ 1. В каком слове звуков больше, чем букв?

- 1) карта
- 2) сирень
- 3) маяк

+

№ 2. В каком слове ударение падает на третий слог?

- 1) велосипед
- 2) каравай
- 3) капуста

-

№ 3. Отметь слово, которое неверно разделено для переноса.

- 1) ма-ма
- 2) ма-йка
- 3) кни-га

+

№ 4. Укажи имя собственное.

- 1) (П,п)авловна
- 2) (Д,д)еревня
- 3) (П,п)авлин

+

№ 5. Какие буквы пишутся на месте пропусков?

У Саши живут замечательные крольчата.

- 1) ы,ы,а,а
- 2) и,и,а,а
- 3) и,и,я,я

+

№ 6. Укажи «лишнее» (неоднокоренное) слово

- 1) лень
- 2) ленивый
- 3) Лена

+

№ 7. В каком слове на конце пишется буква Д?

- 1) пилот
- 2) бутербро.д
- 3) буфет

+

№ 8. Пустота в стволе дерева - это

- ① Дупло
- 2) Гнездо
- 3) нора

+

№ 9. Выбери нужное слово.

(Что делать?) ...по утрам очень полезно.

- 1) бег
- 2) беговой
- ③ бегать

+

№ 10. Какая группа слов является предложением?

- 1) Оба у дедушки
- 2) Мама аквариум с рыбкой
- ③ Видели ли вы дроздов

+

№ 11. Запиши буквы в каждом слове по порядку цифр.
Прочитай пословицу.

Ы	З	Я	К		Е	Т	У	Л		К	О	Р	Ь	Я
3	2	1	4		2	1	4	3		2	3	4	5	1
я	з	я	к		т	е	у	л		к	о	р	ь	я

+

№ 12.* Прочитай текст и озаглавь его.

Дал

Мы живём в селе Сосновка. Рядом с селом стоит сосновая роща. Как там хорошо! Стучат весёлые дятлы. Трещат сороки. В кустах шуршат ежи. Мы часто отдыхаем в роще.

Сколько в тексте слов, в которых есть сочетания ЧА-ЩА?

- ① 4
- 2) 5
- 3) 6

+

Диагностическая работа по обучению грамоте

Фамилия Белых Егор Дата: 16.02.23г.

1 вариант

1. В предложении подчеркни гласные буквы.

Идет теплый дождик.

2+

2. В предложении подчеркни согласные буквы.

У Зои и Зины зоркие глаза.

1

3. Раздели слова на слоги. Поставь ударение.

гора' сорока стайка

1

4. Обведи буквы, обозначающие глухие согласные звуки.

О И Р А У М Н К С Ы Л Е Й Г З Ё Ы И Ю

2+

5. Обведи буквы, обозначающие звонкие согласные звуки.

О И Р А У М Н К С Ы Л Е Й Г З Ё Ы И Ю

2+

6. Прочитай слоги. Обозначь зелёным цветом буквы, в которых согласный звук произносится мягко. Синим цветом обозначь буквы, которые обозначают твёрдые согласные звуки.

ЛЯ, МУ, СИ, ЗЕ, КО, МЫ, СИ, РУ, ЗА, НЯ, ГЕ

2+

7. Сколько слов в предложении.

Моет руки Нина.

3 слов

2+

8. Найди предложение. В нужном квадрате поставь галочку.

ягоды, и, Дина, Люда, ели

Люда и Дина ели ягоды.

Люда, ели, ягоды, и, Дина

2+

Часть В

1. Спиши предложение с печатного текста

Кукла Мила смотрит на улитку.

Кукла Мила смотрит на улитку. 2 +

2. Спиши предложение с письменного текста

По берегу бродят утята.

По берегу бродят утята. 2 +

3. Какие слова пишутся с заглавной буквы (подчеркнуть):

баран, коля, алла, заяц, ком, огород

2 +

205.

Высокий уровень!

18 мая.

Контрастное списывание.

В шкае.

У нас хорошая шкаа. Я учусь а
в первом классе. В классе много
цветов и книг. Идёт урок. Откры-
лась дверь. Вошёл новый ученик.
Он приехал из Москвы. Это Аня
Сёмин. Мальчик хорошо умеет чи-
тать и писать. Он мой друг.

См.

27 марта.

Диктант.

Весна.


Наступила весна. Всё тает.

Проснулись звонкие малыши. Пучейки бегают, шелохаются. Они рады весне. В лесу весело поют птицы.

Проснулся бурый медведь. Вот бежит ^т серенький зайчик Туська.

Слл.

Математика



ученика(цы) Белых Елена

1. Реши примеры.

$9 + 6 = 15$

$4 + 8 = 12$

$5 + 9 = 14$

$7 + 6 = 13$

$6 + 6 = 12$

$8 + 6 = 14$

$8 + 8 - 6 = 10$

$7 + 7 - 10 = 4$

$8 + 7 - 1 = 14$

2. Сравни.

1 дм \lessdot 15 см

9 дм \gtrdot 9 см

1 дм \doteq 10 см

17 см \gtrdot 1 см

3. Реши задачу.

У Лены было 8 карандашей. Она купила ещё 5 карандашей. Сколько карандашей стало у Лены?

$8 + 5 = 13 \text{ (к.)}$

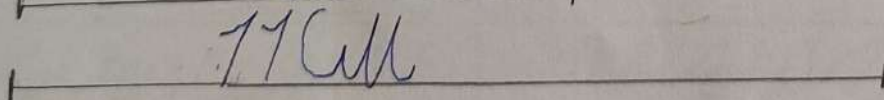
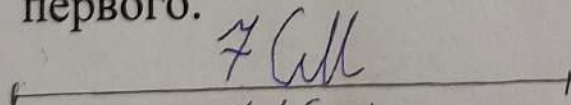
Ответ: 13 карандашей стало у Лены.

4. В букете 9 ромашек и 7 васильков. Сколько всего цветов в букете?

$9 + 7 = 16 \text{ (ц.)}$

Ответ: всего 16 цветов в букете.

5. Начерти 2 отрезка: один 7 см, а другой на 4 см длиннее первого.



$7 + 4 = 11 \text{ (см.)}$

Ответ: длина отрезка 11 см.

Молодец!



Итоговая контрольная работа по математике

ученика(цы) Бельмас Елена

1. Вычисли

$6 + 7 = 13$

$18 - 8 = 10$

$8 + 8 = 16$

$9 + 9 = 18$

$14 - 7 = 7$

$10 + 5 = 15$

$5 + 9 = 14$

$16 - 8 = 8$

$14 - 8 = 6$

$8 + 10 = 18$

$11 - 6 = 5$

$16 - 10 = 6$

2. Сравни и поставь знаки $>$, $<$, $=$.

$9 + 3 \square 9$

$15 - 5 \square 10$

$10 \text{ см} \square 1 \text{ дм}$

$2 \text{ дм} \square 12 \text{ см}$

$8 + 3 \square 11$

$9 + 6 \square 16$

$16 \text{ см} \square 1 \text{ дм}$

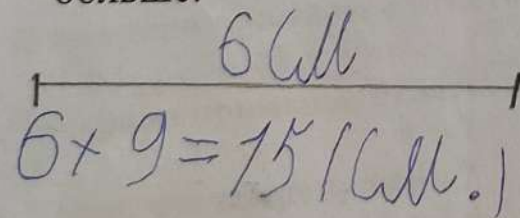
$1 \text{ дм } 8 \text{ см} \square 18 \text{ см}$

3. Реши задачу

Мама купила 14 кг слив. Из 5 кг она сварила компот, а 6 кг заморозила. Сколько килограммов слив осталось у мамы?

$14 - 5 - 6 = 3$ (кг)									
Ответ: 3 килограмма слив осталось у мамы.									

4. Начерти два отрезка. Первый отрезок длиной 6 см, а второй на 9 см больше.



15 см

Ответ: длина отрезка 15 см.

7*. Группа бегунов бежит по дорожке. Один спортсмен бежит четвертым, если считать с начала, и четвертым, если считать с конца. Сколько бегунов в группе?

Ответ: 4 бегуна в группе.



3	
1	2
2	1

4	
1	3
2	2
3	1

7	
1	6
2	5
3	4
4	3
5	2
6	1

8	
1	7
2	6
3	5
4	4
5	3
6	2
7	1

9	
1	8
2	7
3	6
4	5
5	4
6	3
7	2
8	1

5	
1	4
2	3
3	2
4	1

6	
1	5
2	4
3	3
4	2
5	1

2	
1	1

ЕГОР

Ergebnis

$5 + 1 = 6$	$4 + 1 = 5$
$8 - 1 = 7$	$10 - 1 = 9$
$7 + 1 = 8$	$5 - 1 = 4$
$4 - 1 = 3$	$2 + 1 = 3$
$9 + 1 = 10$	$2 - 1 = 1$
$3 - 1 = 2$	$5 + 1 = 6$
$3 + 1 = 4$	$8 - 1 = 7$
$6 - 1 = 5$	$7 + 1 = 8$
$8 + 1 = 9$	$4 - 1 = 3$
$1 - 1 = 0$	$9 + 1 = 10$
$6 + 1 = 7$	$3 - 1 = 2$
$9 - 1 = 8$	$3 + 1 = 4$
$0 + 1 = 1$	$6 - 1 = 5$
$7 - 1 = 6$	$8 + 1 = 9$
$0 + 1 = 1$	$1 - 1 = 0$
$4 + 1 = 5$	$6 + 1 = 7$
$10 - 1 = 9$	$9 - 1 = 8$
$5 - 1 = 4$	$0 + 1 = 1$
$2 + 1 = 3$	$7 - 1 = 6$
$2 - 1 = 1$	$0 + 1 = 1$

Контрольная работа № 1

1. Вставь пропущенные числа:

1, 2, 3, 4, 5, 6, 7, 8, 9, 10

10, 9, 8, 7, 6, 5, 4, 3, 2, 1

2. Сравни $>$, $<$, $=$

$$4 < 8$$

$$7 + 1 = 8$$

$$7 > 2$$

$$9 + 1 > 8$$

3. Реши примеры:

$$4 + 1 = 5$$

$$7 - 1 = 6$$

$$5 - 5 = 0$$

$$3 + 1 = 4$$

$$5 - 2 = 3$$

$$6 + 0 = 6$$

$$5 + 2 = 7$$

$$8 - 2 = 6$$

$$9 - 0 = 9$$

4. Начерти отрезок длиной 7 см



Контрольная работа по теме

«Числа от 1 до 10. Сложение и вычитание»

1. Найди закономерность и вставь пропущенные числа.

1, 3, 5, 7, 9.

10, 8, 6, 4, 2.

2. Вычисли.

$3 + 2 = 5 \quad 2 + 4 = 6 \quad 5 + 1 + 2 = 8$

$6 - 2 = 4 \quad 6 - 3 = 3 \quad 8 - 1 - 1 = 6$

$7 + 2 = 9 \quad 7 - 3 = 4 \quad 3 + 1 + 2 = 6$

3. Сравни, вставляя знаки $>$, $<$, $=$.

$4 < 5 \quad 4 = 4 \quad 4 + 2 < 7$

$7 > 3 \quad 1 < 3 \quad 7 - 2 = 5$

$9 > 0 \quad 2 < 9 \quad 9 - 1 > 7$

4. Прочитай задачу. Нарисуй схему, запиши решение и ответ.

На горке каталось 3 девочки и 5 мальчиков. Сколько всего детей каталось на горке?



$3 + 5 = 8$ (д.)
Ответ: 8 д.

5. Начерти отрезок длиной 6 см. Ниже начерти отрезок на 3 см больше.

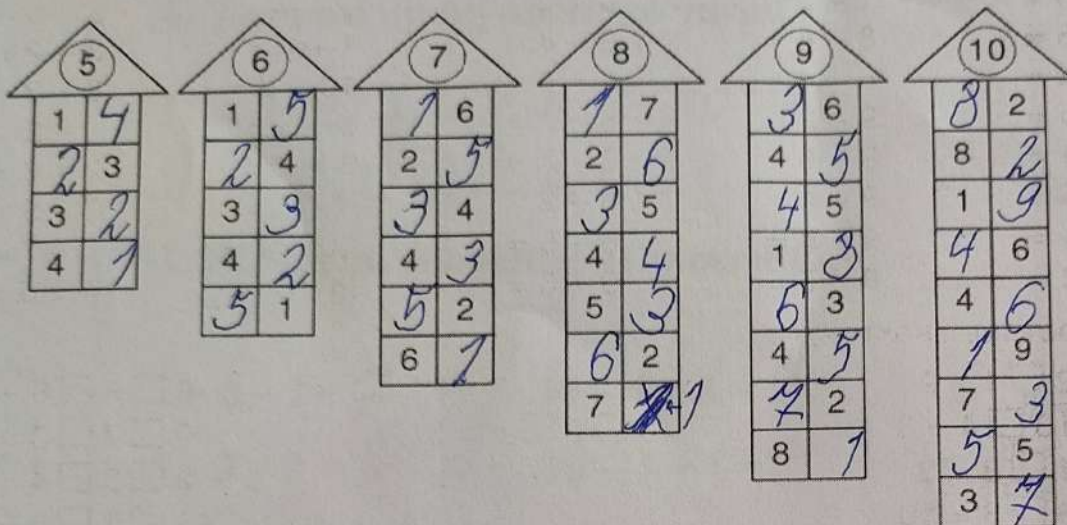
6 см

9 см

Проверочная работа по теме «Состав чисел в пределах 10-ти».

Егор

1. Заполни числовые домики




2. Сравни, поставь знаки $<$, $>$ или $=$

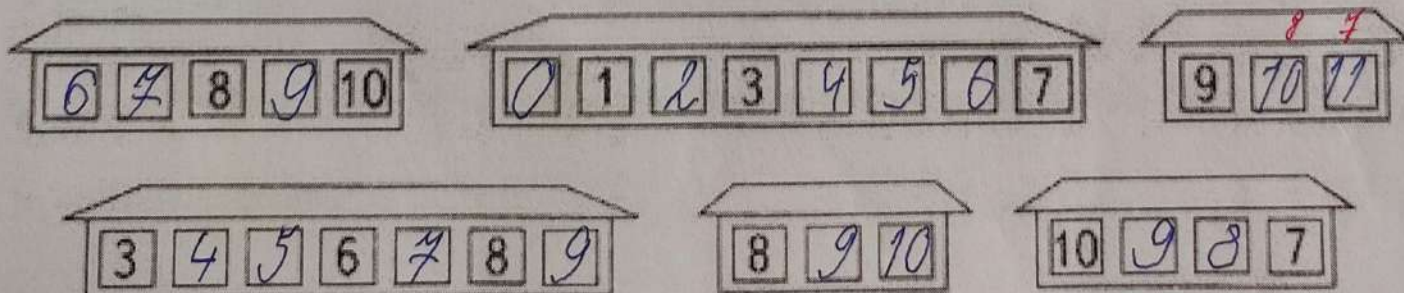
$4 + 3 \approx 7$ $4 - 3 \leq 5$ $6 + 3 \geq 7$
 $9 - 3 \leq 8$ $3 + 3 \geq 3$ $10 - 3 \leq 9$
 $7 + 3 \geq 6$ $7 - 3 \leq 5$ $2 + 3 \geq 3$

3. Нарисуй схему к задаче и реши ее.


Даша нашла 6 грибов, а Аня на 2 гриба больше. Сколько грибов нашла Аня?



4. Восстанови пропущенные числа.



Литературное чтение



Ежик

Комплексная итоговая контрольная работа для оценивания образовательных результатов в 1 классе
(литературное чтение, русский язык, математика, окружающий мир)

Ежи.

У нас под крыльцом живут ежи.


По вечерам вся семья выходит

гулять. Взрослые ежи роют землю маленькими лапами. Они

достаю**т корешки** и едят.

Маленькие ежата в это **время**

играют, резвятся. Однажды к



старому ежу подбежала собака. Ёж свернулся в клубок и замер.

Собака осторожно покатила ежа к пруду. Ёж плюхнулся в воду и

поплыл. Я прогнал собаку. На следующую весну остался под

крыльцом один старый ёжик. Куда девались остальные? Они

переселились в другое место. Старый ёж не захотел покинуть

мой дом.

(85 слов)

45

Вопросы и задания по тексту

I. Читательская компетенция.

Чтение и понимание прочитанного.

1. Начни читать текст. По сигналу учителя поставь палочку после того слова, до которого дочитал. Дочитай текст до конца.

2. Ответь на вопросы письменно:

Где живут ежи?

Под крыльцом.

10.

Что достают взрослые ежи из – под земли?

Корешки.

10.

Кто покати ежа к пруду?

Собака.

10.

Сколько ежей осталось под крыльцом следующей весной?

Один х еж.

10.

Куда девались остальные ежи?

Они переселились
в другое место.

5.
10.

3. Продолжи предложение:

Взрослые ежи роют землю маленькими лапами.

10.

4. Какая картинка не соответствует содержанию текста? Отметь галочкой.



10.



5. К какому жанру относится этот текст? Отметь галочкой или обведи в овал верный вариант.

- а) рассказ
б) стихотворение
в) сказка

Задания по русскому языку

1. Спиши из текста три первых предложения. Проверь. Если надо, исправь.

У нас под крыльцом живут ежи. По ве-
черам вся семья выходит гулять. В рос-
ы ежи роют землю маленькими лап-

2.1) Найди и спиши выделенные в тексте жирным шрифтом слова.

гулять звуков букв
колючки звуков букв
береза звуков букв

- 2) Подчеркни в записанных словах буквы мягких согласных звуков.
3) Раздели эти слова вертикальной чертой на слоги.
4) Определи и запиши цифрой в прямоугольнике рядом со словами количество звуков и количество букв.

3. Прочитай слова. Подумай, на какое они правило. Допиши 3 слова на это правило.

Ёжик, живут, животные, жирас, жиль

Задания по математике.

1. Реши задачу:

Папа – ёж и мама – ежиха принесли из леса яблоки. Мама – ежиха принесла 3 яблока, а папа – ёж на 5 яблок больше.

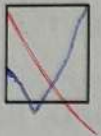
Выбери вопрос к задаче, чтобы она решалась так: $3+5$

Правильный ответ отметь галочкой.



Сколько яблок принёс папа – ёж?

Ответ: _____ яблок.



Сколько всего яблок принесли мама – ежиха и папа – ёж?

Ответ: ~~8~~ _____ яблок.



На сколько яблок больше принёс папа – ёж, чем мама – ежиха?

Ответ: _____ яблок.

2. Ёжику загадали число: пять увеличили на 4, а затем результат уменьшили на 6. Какое число загадали ёжику? Запиши выражение.


$$5 + 4 - 6 = 3$$

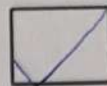



3. Сколько слов во **2** предложении? Сколько слов в **11** предложении? В из них меньше слов? Запиши ответ цифрами и сравни >, <, =.

Ответ: 6 < 9

Задания по окружающему миру

1. Вспомни, название какого времени года встречается в тексте? Найди соответствующую картинку и отметь галочкой.





10.

2. Прочитай названия месяцев и отметь галочкой, какие из них относятся к времени года, название которого присутствует в тексте.

Январь

Ноябрь

Апрель

Март

Июль

Сентябрь

Июнь

Октябрь

Февраль

Май

Август

Декабрь

10.

3. Закончи предложение:

Ёж – это (птица, зверь, насекомое), потому что у него есть шипы

и он хищник.

10.

Дополнительные задания

1. Вычисли и расставь числа в порядке увеличения, затем напиши слово.

$7+3=10$ А

$9-6=3$ О

$7-5=2$ С

$6+2=8$ К

$0+4=4$ Б

$8-2=6$ А

2	3	4	6	8	10
С	О	Б	А	К	А
С	О	Б	А	К	А

20.

2. Рассмотрю схему.

1) Выбери рисунки, которые относятся к живой или неживой природе. Соедини эти рисунки стрелками с названиями.



ЖИВАЯ
ПРИРОДА



НЕЖИВАЯ
ПРИРОДА



2) Запиши на свободной строчке свой пример объекта живой природы,

слон

0,5
1,0

3. Выпиши из текста одно слово, в котором звуков больше, чем букв. Если нужно, перечитай текст.

шурша

0,5

4. Как ты думаешь, почему старый ёж не захотел покинуть дом?
Напиши одним предложением.

Потому что он привык к своему дому

Спасибо за работу!

2,0

2,8

Окружающий мир



1. Вспомни, до скольких лет дети должны ездить в автомобиле в специальном кресле.

- 1) до 8 лет
- 2) до 12 лет
- 3) до 10 лет
- 4) до 14 лет

2. Отметь транспорт, которым люди пользуются чаще всего.

- 1) наземным
- 2) воздушным
- 3) подземным
- 4) водным

3. Укажи транспортное средство, в котором есть подушка безопасности.

- 1) поезд
- 2) самолёт
- 3) автомобиль
- 4) электричка

4. Подумай, почему нельзя прилоняться к дверям электрички.

- 1) загораживаем проход людям
- 2) можем выпасть
- 3) так принято в транспорте
- 4) двери грязные

5. Выбери все правильные правила поведения на железнодорожной станции.

- 1) Не ходи по путям.
- 2) Не подходи к краю платформы.
- 3) Обходи электричку сзади.
- 4) Не переходи пути в неположенном месте.

6. Укажи, на чём будут добираться до берега потерпевшие кораблекрушение люди.

- 1) на шлюпке
- 2) на катере
- 3) на яхте
- 4) на надувном матрасе

7. Найди «лишнее».

- 1) спасательный плот
- 2) спасательный круг
- 3) спасательный жилет
- 4) спасательный матрас

8. Вспомни, на каких транспортных средствах есть ремни безопасности.


- 1) в электричке и автомобиле
- 2) в автомобиле и самолёте
- 3) в поезде и на теплоходе
- 4) в самолёте и на теплоходе

9. Подумай, почему во время полёта надо отключать мобильный телефон.

- 1) потому, что телефон в самолёте не работает
- 2) мешаем разговорами другим пассажирам
- 3) создаём помехи приборам самолёта
- 4) в транспорте нельзя пользоваться телефонами

10. Выбери все спасательные средства, которые рассчитаны только на одного человека.

- 1) шлюпка
- 2) жилет
- 3) плот
- 4) круг

The background is a spiral-bound notebook page with a grid pattern. It is decorated with various colorful stars (yellow, green, blue, red) and illustrations of school supplies like pencils, a ruler, a paperclip, a globe, and a pen. The text is written in a green, stylized font.

Копилка творческих работ

(работы с выставок
(фотографии),
результаты
исследовательских работ,
творческие работы,
рефераты)



маму я люблю




«Мамочка, с Днем ма
Белых Егор
1 а класс
МБОУ «Октябрьская»

МЫ ВМЕСТЕ

КРЫМ

РОССИЯ

«Крымская весна»
Белых Егор
1 а класс
МБОУ «Октябрьская СОШ»



НАВСЕГДА




Enop





Bambi's Crop





Erop

Буква т на крам поскожа
помогает строить дом.
Труд поднимает многоэтажный
вот так чудо великан.

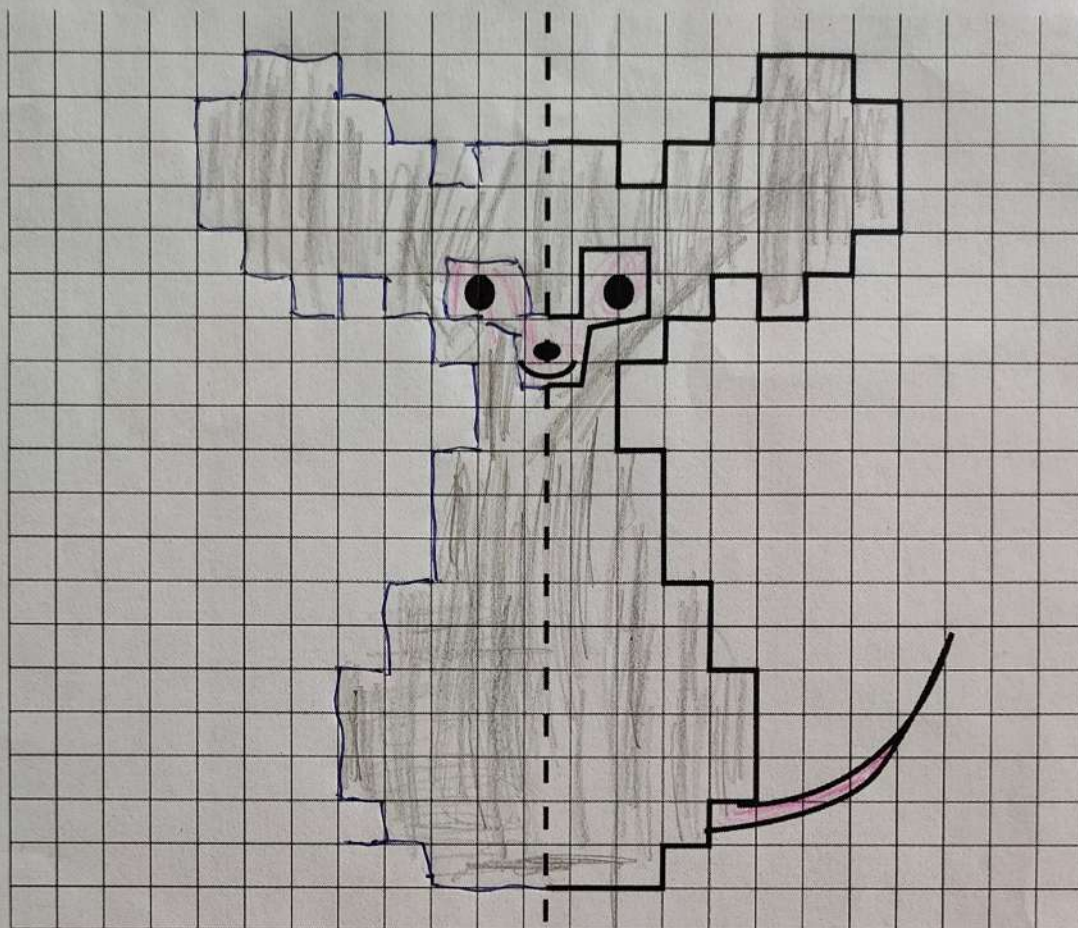


Сноп

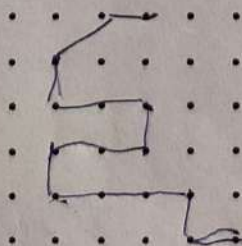


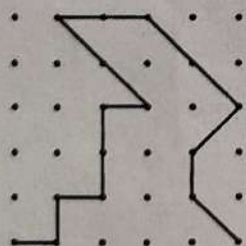

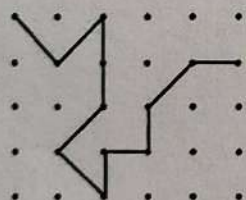
БЫК БАЦА



Дорисуй мышонка по клеткам и раскрась его.

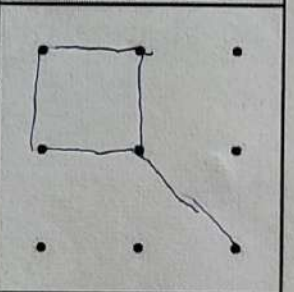
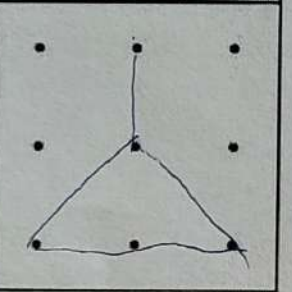
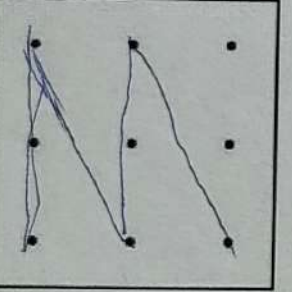
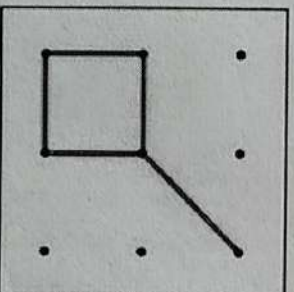
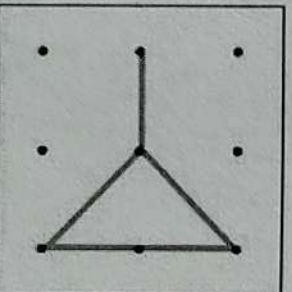
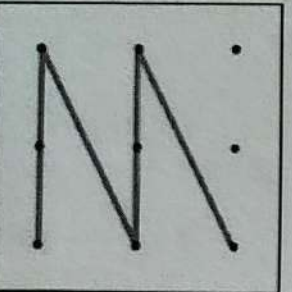
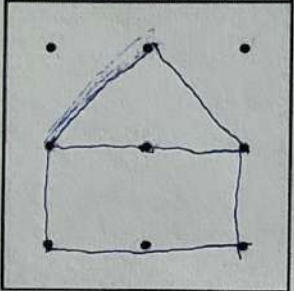
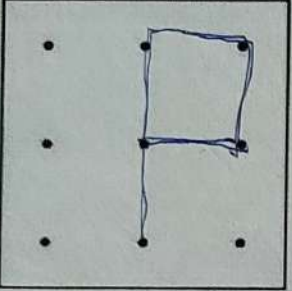
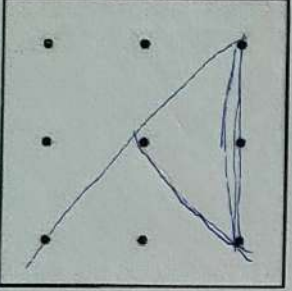
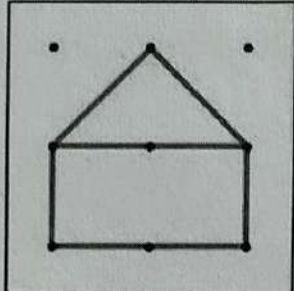
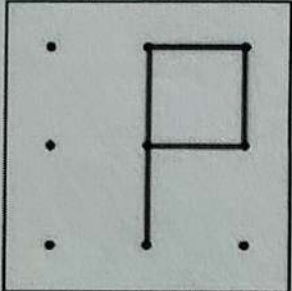
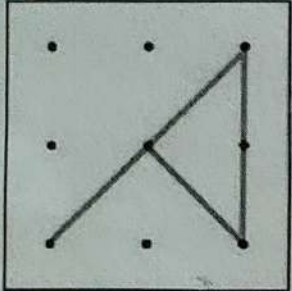


Повтори фигуры.



Ребенок должен уметь воспроизводить
рисунок по образцу.

Егор
Белых


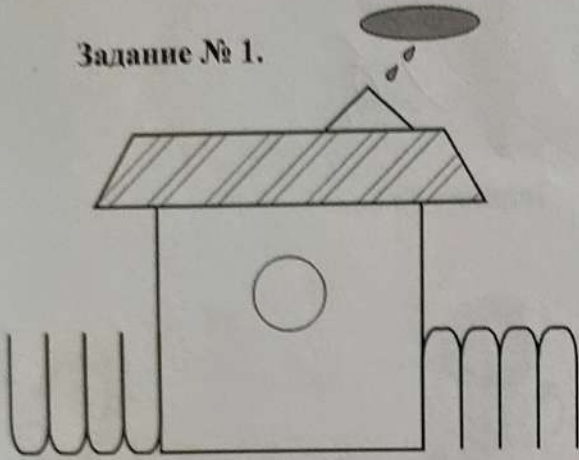


+

Входная контрольная работа
1 класс

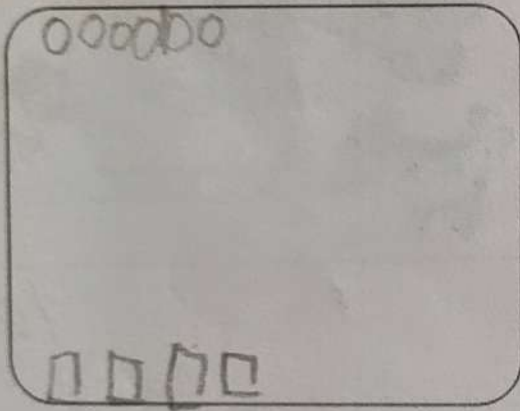
Ф.И. обучающегося _____

Задание № 1.



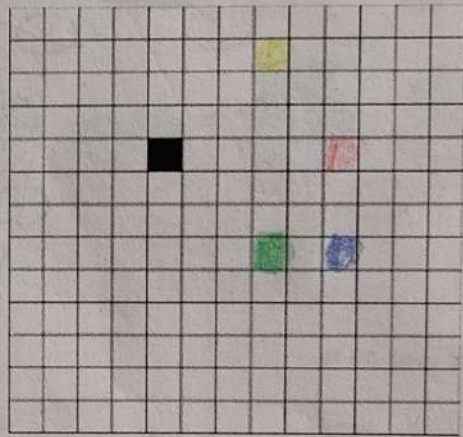
3 б.

Задание № 2.



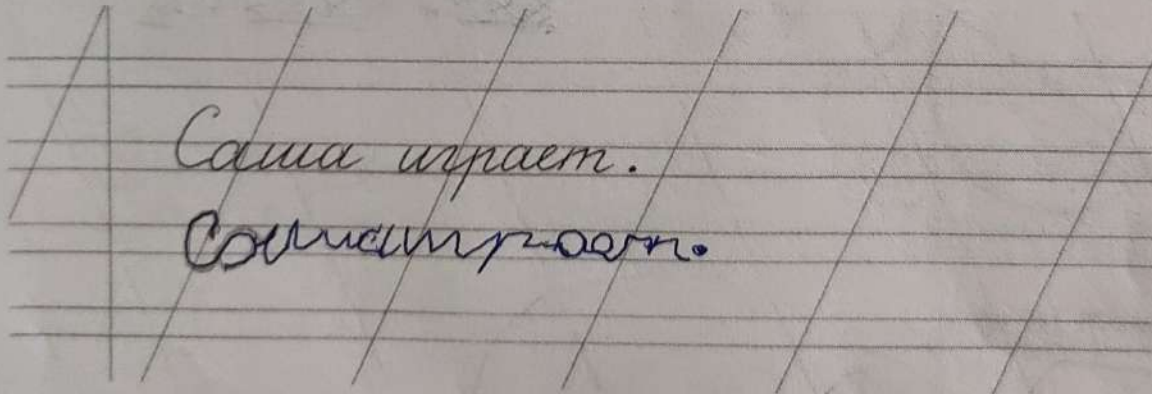
3 б.

Задание № 3.



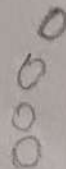
3 б.

Задание № 4.




2 б.

Задание № 5.



3 б.

Задание № 6.




28

Задание № 7.



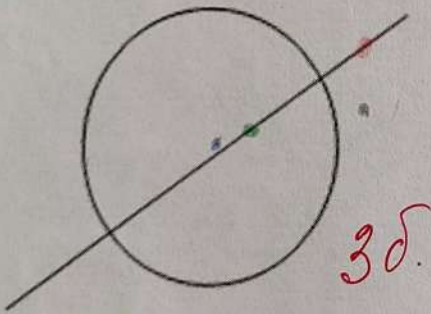
05

Задание № 8.



18

Задание № 9.

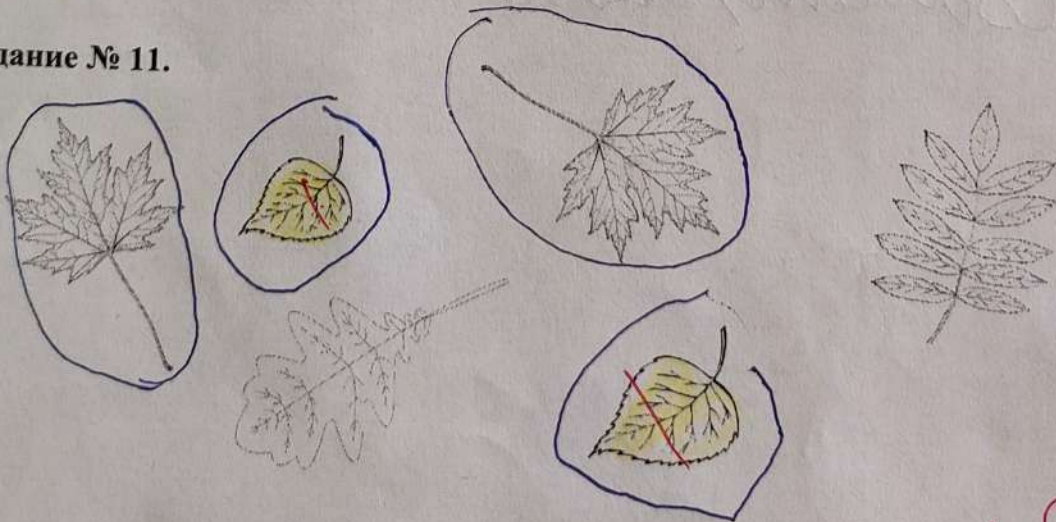


35

Задание № 10.

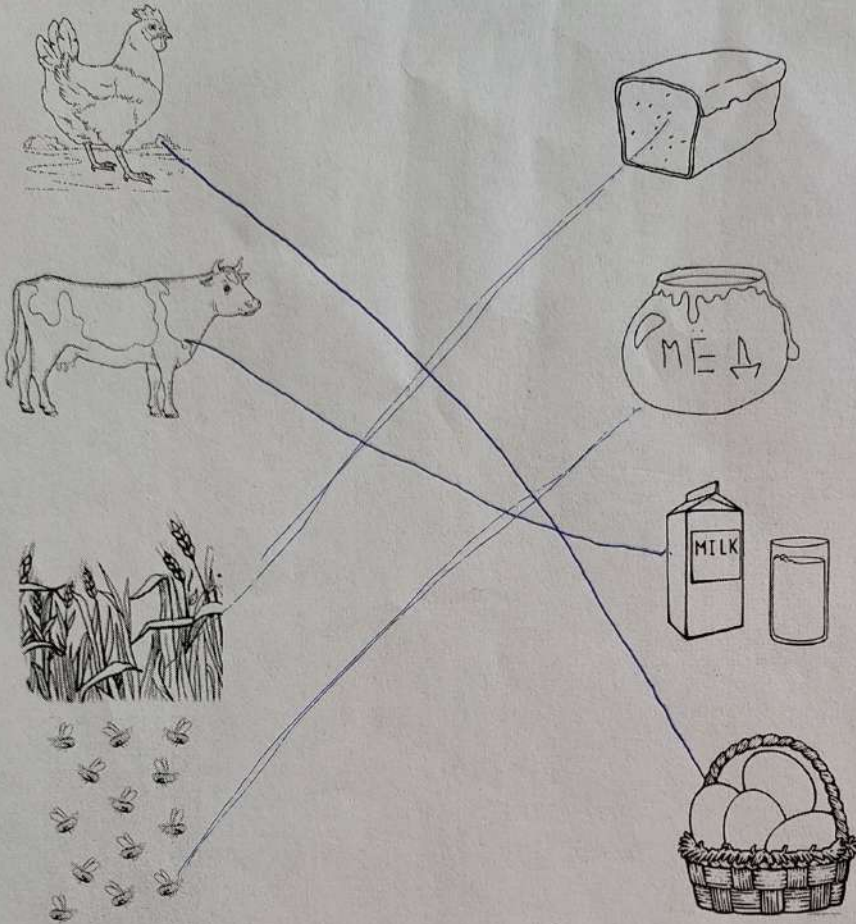
А, Я, Р, Ж, Ч, У, Я, У, М, Ф

Задание № 11.



18

Задание № 12.



20.

Задание № 13.



10.

71% - новые.

240.

Раскрась все буквы красным цветом, а цифры - синим.

